

# فهرست مطالب

## دهم



۸

۱. تقسیم‌های هندسی و استدلال



۵۸

۲. قضیه تالس، تشابه و کاربردهای آن



۱۰۰

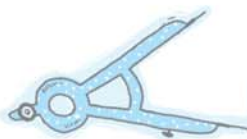
۳. چندضلعی‌ها



۱۶۵

۴. حجم فضایی

## یازدهم



۲۱۴

۱. دایره



۲۷۴

۲. تبدیل‌های هندسی و کاربردها



۳۲۱


۳. روابط طولی در مثلث

# دوره

هفتاد و سه  
بازار قسم



## فصل اول

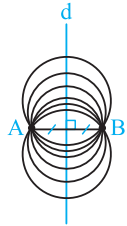
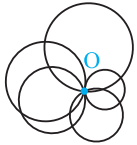


## درس اول: مفاهیم اولیه و زاویه‌ها در دایره

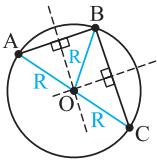
### قضیه‌های وتر و انواع زاویه

**تعریف دایره:** مجموعه نقاطی از صفحه است که فاصله آن‌ها از نقطه ثابتی در همان صفحه، مقدار ثابتی باشد. نقطه ثابت را مرکز دایره و مقدار ثابت را شعاع دایره می‌گویند.  $C(O, R)$  نشان‌دهنده دایره‌ای به مرکز  $O$  و شعاع  $R$  است.

**C یادآوری** از یک نقطه، بی‌شمار دایره می‌گذرد.

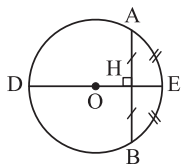


**C یادآوری** از دو نقطه  $A$  و  $B$  بی‌شماره دایره می‌گذرد و مرکز این دایره‌ها واقع بر خط  $d$  عمودمنصف پاره‌خط  $AB$  است.



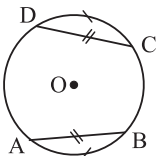
**C یادآوری** از هر سه نقطه غیرواقع بر یک خط، یک دایره می‌گذرد که مرکز آن، نقطه برخورد عمودمنصف‌های اضلاع مثلث تشکیل شده با آن سه نقطه می‌باشد و شعاع آن برابر است با فاصله مرکز دایره تا یکی از آن سه نقطه.

### چند قضیه مهم



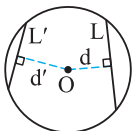
① در هر دایره، قطر عمود بر هر وتر، آن وتر و کمان‌های نظیر آن وتر را نصف می‌کند و خطی که مرکز دایره را به وسط یک وتر از آن دایره وصل می‌کند، بر آن وتر عمود است و برعکس. یعنی داریم:

$$\begin{cases} \widehat{AE} = \widehat{EB} \\ \widehat{AD} = \widehat{DB} \Leftrightarrow OH \perp AB \\ AH = HB \end{cases}$$



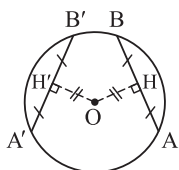
$$AB = CD \Leftrightarrow \widehat{AB} = \widehat{CD}$$

② در یک دایره، کمان‌های نظیر دو وتر مساوی، با هم برابرند و برعکس. یعنی داریم:



$$L > L' \Leftrightarrow d < d'$$

③ در یک دایره، از دو وتر نابرابر، آن‌که بزرگ‌تر است به مرکز دایره نزدیک‌تر است و برعکس. یعنی داریم:



$$AB = A'B' \Leftrightarrow OH = OH'$$

**نتیجه** در هر دایره، وترهای مساوی، از مرکز دایره به یک فاصله‌اند و برعکس. یعنی داریم:

### زاویه‌های اصلی در دایره

**زاویه مرکزی:** زاویه‌ای است که رأس آن مرکز دایره و اضلاع آن شعاع‌های دایره هستند. اندازه

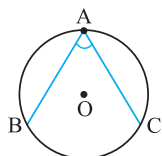
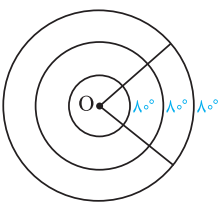
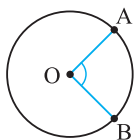
هر زاویه مرکزی برابر با اندازه کمان مقابلش است:  $\widehat{AOB} = \widehat{AB}$ .

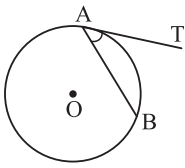
توجه کنید که رابطه بالا به اندازه شعاع دایره بستگی ندارد. مثلاً در شکل مقابل، کمان دایره‌هایی

با شعاع مختلف، اندازه‌های برابر ولی طول‌های نابرابر دارند.

**زاویه محاطی:** زاویه‌ای است که رأسش روی محیط دایره و ضلع‌هایش دو وتر از دایره باشند.

اندازه هر زاویه محاطی برابر نصف کمان مقابلش است:  $\widehat{BAC} = \frac{\widehat{BC}}{2}$ .



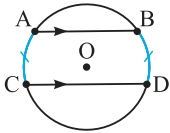


**زاویهٔ ظلی:** زاویه‌ای است که رأسش روی محیط دایره است، یک ضلعش وتر و دیگری بر دایره مماس است.

مانند  $\widehat{TAB}$  در شکل روبه‌رو:

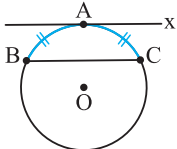
اندازهٔ هر زاویهٔ ظلی برابر نصف کمان مقابلش است:  $\widehat{TAB} = \frac{\widehat{AB}}{۲}$

⊕ نکته: کمان‌های محدود بین دو وتر موازی، با هم برابرند:



$$AB \parallel CD \Rightarrow \widehat{AC} = \widehat{BD}$$

**حالت خاص:** در شکل مقابل  $AX \parallel BC$  و  $AX$  مماس بر دایره است. در این حالت نیز داریم:



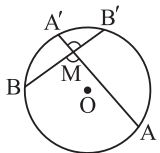
$$\widehat{AB} = \widehat{AC}$$

### ← زوایای غیراصلی و حالت‌های خاص آن‌ها

① به زاویه‌ای که از برخورد دو وتر در داخل دایره ایجاد می‌شود زاویهٔ داخلی می‌گویند و اندازهٔ آن برابر است با نصف

مجموع کمان‌های محدود به دو وتر:

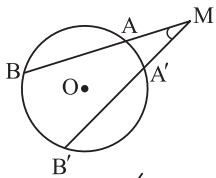
$$\widehat{M} = \frac{\widehat{AB} + \widehat{A'B'}}{۲}$$



② به زاویه‌ای که از برخورد امتداد دو وتر در خارج دایره ایجاد می‌شود زاویهٔ خارجی می‌گویند و اندازهٔ آن برابر است با

نصف قدرمطلق تفاضل دو کمان محدود بین دو ضلع آن زاویه:

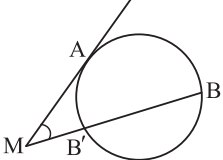
$$\widehat{M} = \frac{|\widehat{BB'} - \widehat{AA'}|}{۲}$$



**حالت خاص:**

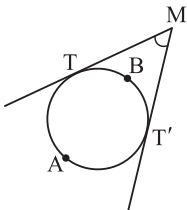
① زاویهٔ بین یک مماس و یک قاطع برابر است با نصف قدرمطلق تفاضل دو کمان محدود بین دو ضلع آن زاویه:

$$\widehat{M} = \frac{|\widehat{AB} - \widehat{A'B'}|}{۲}$$



② زاویهٔ بین دو مماس بر دایره نیز برابر است با نصف قدرمطلق تفاضل دو کمان ایجادشده:

$$\widehat{M} = \frac{|\widehat{TAT'} - \widehat{TBT'}|}{۲}$$



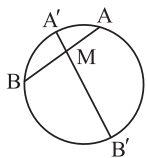
## درس دوم: رابطه‌های طولی در دایره

رابطه‌های طولی، مفهوم قوت و مماس‌های مرسوم بر دایره از نقطه‌ای خارج از آن

### ← روابط طولی در دایره

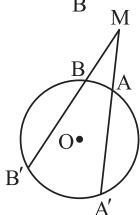
① هرگاه دو وتر یکدیگر را داخل دایره قطع کنند، داریم:

$$MA \times MB = MA' \times MB'$$

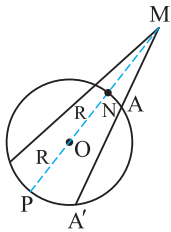


② هرگاه امتداد دو وتر یکدیگر را در خارج دایره قطع کنند، داریم:

$$MA \times MA' = MB \times MB'$$



نتیجه گیری در حالت خاص، اگر شکل قبل را به صورت مقابل کامل تر کنیم، خواهیم داشت:

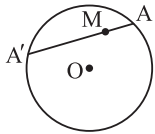


$$MA \times MA' = MN \times MP = (MO - R)(MO + R) = MO^2 - R^2$$

به عددی که از  $MO^2 - R^2$  به دست می آید «قوت نقطه M نسبت به دایره» گفته می شود که کاربرد آن بیشتر برای بررسی وضعیت نقطه نسبت به دایره است. چنانچه این عدد مثبت شود، نقطه بیرون دایره، چنانچه صفر شود، نقطه واقع بر محیط دایره و اگر منفی شود، نقطه درون دایره است. همچنین برای محاسبه طول پاره خط مماس از نقطه ای خارج دایره و محاسبه طول کوتاه ترین وتر گذرنده از یک نقطه داخل دایره نیز می توان از «قوت» استفاده کرد.

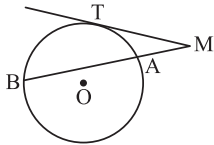
**بیان دیگری از رابطه طولی «قوت»:** ضرب طول های دو قطعه قاطع وارد بر دایره برابر است با مجذور فاصله نقطه تا مرکز، منهای مجذور شعاع دایره.

تذکره برای وضعیتی که نقطه M داخل دایره قرار داشته باشد نیز رابطه قبل به این صورت نوشته می شود:



$$MA \times MA' = R^2 - MO^2$$

هرگاه از نقطه ای خارج دایره، یک مماس و یک قاطع نسبت به دایره رسم کنیم، طول مماس، واسطه هندسی بین دو قطعه ایجاد شده روی قاطع است:

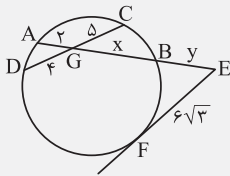


$$MT^2 = MA \times MB$$

در این وضعیت نیز می توان قوت نقطه M نسبت به دایره را به کمک رابطه بالا چنین تعریف کرد:

$$MT^2 = MA \times MB = (MO - R)(MO + R) = MO^2 - R^2$$

مثال در شکل مقابل مقدار y کدام است؟



۷/۵ (۲)

۶ (۱)

۹ (۴)

۸ (۳)

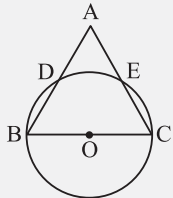
پاسخ: گزینه (۱)

دو بار از رابطه طولی در دایره استفاده می کنیم و چنین می نویسیم:

$$AG \times GB = CG \times GD \Rightarrow 2 \times 5 = 4 \times x \Rightarrow x = 10$$

$$EF^2 = EB \times EA \Rightarrow (6\sqrt{3})^2 = y \times (y + 10 + 2) \Rightarrow y^2 + 12y - 108 = 0 \Rightarrow (y + 18)(y - 6) = 0 \Rightarrow \begin{cases} y = 6 \\ y = -18 \text{ (غ ق ق)} \end{cases}$$

مثال در شکل مقابل، مثلث متساوی الاضلاع به ضلع ۶ و O مرکز دایره است.



۱۲ (۲)

۱۸ (۱)

$9\sqrt{2}$  (۴)

$6\sqrt{6}$  (۳)

پاسخ: گزینه (۱)

حاصل  $AE \times AC$  کدام است؟

$$AE \times AC = AD \times AB = AO^2 - \frac{R^2}{OC^2}$$

با توجه به نکات قبل، از رابطه قوت دایره داریم:

حال از آنجا که در مثلث متساوی الاضلاع، میانه AO نقش ارتفاع را هم دارد، پس:  $AO = \frac{6\sqrt{3}}{2} = 3\sqrt{3}$  و  $OC = \frac{BC}{2} = 3$ . بنابراین:

$$AE \times AC = (3\sqrt{3})^2 - 3^2 = 18$$

← معاس بر دایره

هرگاه از نقطه  $M$  خارج دایره، دو مماس بر دایره رسم کرده و سپس از آن به مرکز دایره وصل کنیم، نکات زیر را داریم:

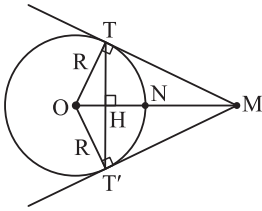
① شعاع در نقطه تماس بر خط مماس عمود است. یعنی داریم:  $\widehat{T} = \widehat{T'} = 90^\circ$ .

② طول مماس‌های مرسوم بر دایره از نقطه‌ای خارج دایره با هم برابرند:  $MT = MT'$ . (بسیار مهم)

③ پاره خط  $OM$  نیمساز  $\widehat{M}$  و  $\widehat{O}$  است و داریم:  $\widehat{NT} = \widehat{NT'}$ .

④ پاره خط  $OM$  عمودمنصف  $TT'$  است و کمان‌های  $TT'$  و  $TNT'$  را نصف می‌کند.

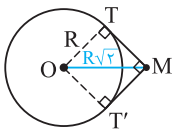
⑤ از روابط طولی مثلث قائم‌الزاویه  $OTM$  نتیجه می‌شود که:



$$\begin{cases} TH \times OM = R \times MT \\ R^2 = OH \times OM, \quad MT^2 = MH \times MO \\ TT'^2 = 4OH \times HM \end{cases}$$

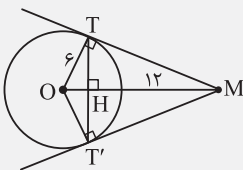
⑥ در حالت خاص که دو مماس مرسوم بر دایره از نقطه  $M$  بر هم عمود باشند، چهارضلعی  $MTOT'$  مربع است و قطر

آن یعنی  $OM$  برابر است با  $R\sqrt{2}$ . (پهرا؟)



مثال از نقطه  $M$  بیرون دایره  $C(O, 6)$  دو مماس  $MT$  و  $MT'$  را بر آن رسم کرده‌ایم.

اگر  $OM = 12$  باشد، طول وتر  $TT'$  کدام است؟



- ۱) ۳  
 ۲) ۶  
 ۳)  $3\sqrt{3}$   
 ۴)  $6\sqrt{3}$

پاسخ: گزینه (۴)

$MO$  عمودمنصف  $TT'$  است، پس  $TH = T'H$ . در مثلث‌های  $OTM$  و  $OT'M$  طبق قضیه فیثاغورس داریم:

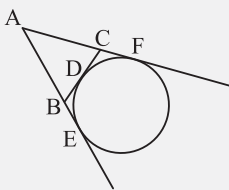
$$MT = MT' = \sqrt{OM^2 - R^2} = \sqrt{12^2 - 6^2} = \sqrt{108} = 6\sqrt{3}$$

از طرفی:

$$\triangle OTM \text{ در رابطه طولی: } OT \times TM = TH \times OM \Rightarrow 6 \times 6\sqrt{3} = TH \times 12 \Rightarrow TH = 3\sqrt{3} \Rightarrow TT' = 2TH = 6\sqrt{3}$$

مثال در شکل روبه‌رو با تغییر نقطه تماس  $D$  بر روی دایره بین دو نقطه ثابت  $F$  و  $E$ ، مساحت و

محیط مثلث  $ABC$  کدام وضع را دارند؟



- ۱) محیط متغیر، مساحت متغیر  
 ۲) محیط متغیر، مساحت ثابت  
 ۳) محیط ثابت، مساحت ثابت  
 ۴) محیط ثابت، مساحت متغیر

پاسخ: گزینه (۴)

از نقطه  $C$  دو مماس بر دایره رسم شده است، پس  $CF = CD$  (۱)؛ همچنین از نقطه  $B$  نیز دو مماس بر دایره رسم

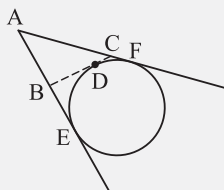
شده، پس  $BD = BE$  (۲) و به همین ترتیب از نقطه  $A$  دو مماس بر دایره رسم شده، پس  $AE = AF$  (۳)

$$ABC \text{ مثلث} = AB + BD + DC + AC$$

$$\stackrel{(۱),(۲)}{=} AB + BE + CF + AC = AE + AF \stackrel{(۳)}{=} 2AE = 2AF \text{ مقدار ثابت}$$

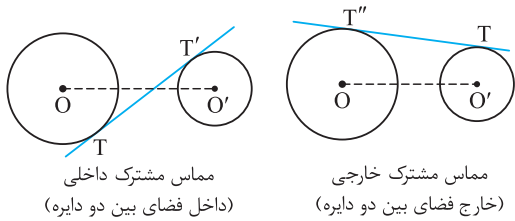
مشاهده می‌شود که مقدار محیط مثلث ثابت است و بستگی به مکان نقطه  $D$  ندارد؛ ولی مساحت تغییر می‌کند و هر چه نقطه  $D$  از وسط کمان  $EDF$  حرکت

کند و به طرفین برود، مساحت مثلث  $ABC$  کم‌تر می‌شود.





مماس مشترک و اوضاع نسبی دایره‌ها



**مماس مشترک:** مماس مشترک دو دایره، خطی است که بر هر دو دایره مماس باشد. اگر دو دایره در یک طرف خط مماس باشند، این خط، مماس مشترک خارجی و اگر دو دایره در دو طرف خط مماس باشند، این خط، مماس مشترک داخلی نامیده می‌شود.  $OO'$  نیز خط‌المركزین نام دارد.

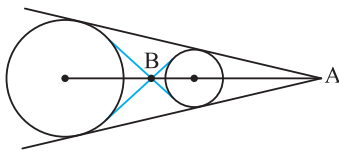
**طول مماس مشترک:** اگر شعاع‌های دو دایره و  $R$  و  $R'$  طول خط‌المركزین دو دایره باشد، داریم:

$$TT' = \sqrt{d^2 - (R + R')^2} \quad \text{طول مماس مشترک داخلی}$$

$$TT'' = \sqrt{d^2 - (R - R')^2} \quad \text{طول مماس مشترک خارجی}$$

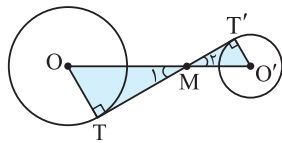


۱) مطابق رابطه‌ها و شکل‌های بالا، واضح است که طول مماس مشترک خارجی بیشتر از طول مماس مشترک داخلی است (مگر در یک وضعیت خاص که دایره‌ها بر یکدیگر مماس خارج باشند که جلوتر می‌آموزیم).



۲) مماس مشترک داخلی و خط‌المركزین در نقطه‌ای مثل  $B$  و مماس مشترک‌های خارجی و خط‌المركزین در نقطه‌ای مثل  $A$  هم‌مرس‌اند.

توجه کنید که خط‌المركزین دو دایره، همان نیمساز زاویه  $A$  است.



۳) در مورد شکل مقابل، از آنجایی که  $OT$  و  $O'T'$  هر دو بر  $TT'$  عمود هستند، پس  $\hat{T} = \hat{T}' = 90^\circ$  و زاویه‌های  $M_1$  و  $M_2$  نیز با هم متقابل به رأس و برابرند. بنابراین:

$$\triangle MOT \sim \triangle M'O'T' \Rightarrow \frac{OT}{O'T'} = \frac{OM}{O'M} = \frac{MT}{MT'}$$

در واقع در حل تست‌ها، نسبت تناسب اضلاع به کمکمان می‌آید. هم‌چنین از قسمت چپ و وسط تناسب بالا نتیجه جالبی گرفته می‌شود:

نتیجه گیری: نقطه هم‌مرسی خط‌المركزین و مماس مشترک‌های داخلی (یا خارجی)، خط‌المركزین (یا امتداد آن) را به نسبت شعاع‌های دو دایره تقسیم می‌کند.

**مثال:** در دو دایره متقاطع به مراکز  $O$  و  $O'$  و شعاع‌های ۳ و ۴ واحد، فاصله نقطه تلاقی دو دایره از وسط  $OO'$  برابر  $\frac{1}{4}OO'$  می‌باشد. اندازه مماس مشترک محدود به دو نقطه تماس با این دو دایره چند واحد است؟

ریاضی داخل ۹۰

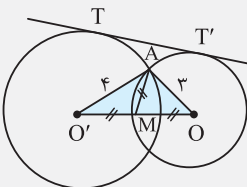
۱) ۵

۲)  $2\sqrt{5}$

۳)  $2\sqrt{6}$

۴) ۴

پاسخ: گزینه ۳



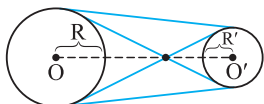
طبق فرض، میانه  $AM$  نصف  $OO'$  است؛ پس مثلث  $AOO'$  قائم‌الزاویه است. بنابراین:  $OO' = 5$

$$TT' = \sqrt{OO'^2 - (R - R')^2} = \sqrt{5^2 - (4 - 3)^2} = \sqrt{24} = 2\sqrt{6}$$

وضعیت‌های دو دایره نسبت به هم

در وضعیت‌های زیر طول خط‌المركزین ( $OO'$ ) را برابر  $d$  گرفته‌ایم.

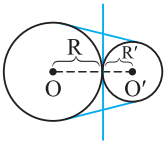
۱- متخارج



خط‌المركزین  $OO' = d > R + R'$

در این حالت دایره‌ها ۲ مماس مشترک خارجی و ۲ مماس مشترک داخلی دارند.

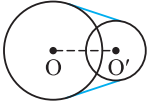
۲- مماس خارج



$$d = R + R'$$

در این حالت دایره‌ها ۲ مماس مشترک خارجی و ۱ مماس مشترک داخلی دارند.

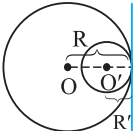
۳- متقاطع



$$R - R' < d < R + R'$$

در این حالت دایره‌ها فقط ۲ مماس مشترک خارجی دارند.

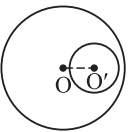
۴- مماس داخل



$$d = |R - R'|$$

در این حالت دایره‌ها ۱ مماس مشترک خارجی دارند.

۵- متداخل

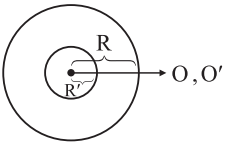


$$0 < d < |R - R'|$$

در این حالت دایره‌ها مماس مشترک ندارند.

حالت خاص

هم‌مرکز

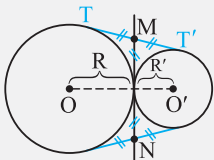


$$d = 0$$

تمرین

الف) طول مماس مشترک خارجی دو دایره  $C(O, R)$  و  $C(O', R')$  را در حالتی که دایره‌ها مماس خارج هستند، به دست آورید.

پاسخ:



$$\left. \begin{aligned} TT' &= \sqrt{d^2 - (R - R')^2} \\ d &= R + R' \end{aligned} \right\} \Rightarrow TT' = \sqrt{(R + R')^2 - (R - R')^2} = \sqrt{4RR'}$$

$$\Rightarrow \text{طول مماس مشترک خارجی دو دایره مماس خارج} \quad TT' = 2\sqrt{RR'}$$

نکات

۱) ممکن است تساوی فوق را به این صورت نیز ببینید:  $TT'^2 = (2R)(2R')$  یعنی «در هر دو دایره مماس خارج،

مماس مشترک خارجی، واسطه هندسی قطر دایره‌ها است.»

۲) در این وضعیت، مماس مشترک داخلی، مماس مشترک‌های خارجی را نصف می‌کند. به عبارت

دیگر  $MN = TT'$ .

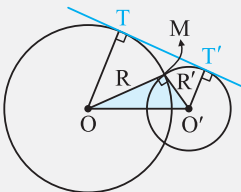
۳) وترى که از نقاط تقاطع دو دایره متقاطع می‌گذرد، وتر مشترک دو دایره نام دارد. در دو دایره متقاطع، امتداد وتر

مشترک، مماس مشترک‌های خارجی را نصف می‌کند. (تفقیق کنید چرا؟)

ب) اگر در دو دایره متقاطع به شعاع‌های  $R$  و  $R'$ ، شعاع‌های گذرنده از نقاط تقاطع، بر هم عمود باشند،

اندازه مماس مشترک آن‌ها چه قدر است؟

پاسخ: مطابق شکل داریم:



$$\left. \begin{aligned} TT' &= \sqrt{d^2 - (R - R')^2} \\ \Delta OMO': d^2 &= R^2 + R'^2 \end{aligned} \right\} \Rightarrow TT' = \sqrt{R^2 + R'^2 - (R^2 + R'^2 - 2RR')} = \sqrt{2RR'}$$



## درس اول: مفاهیم اولیه و زاویه‌ها در دایره

### قضیه‌های وتر و انواع زاویه

سلام دوستان عزیز! هالتون فوبه؟ به قسمت تستای هندسه یازدهم فوش اومدین! امیدواریم با کوله‌بار تجربه‌های گران‌بهایی که از بفش هندسه دهم تقدیمتون کردیم سراغ بخش فعلی اومده باشین.

هندسه یازدهم کلاً سه فصل بیشتر نراره که ما فعلاً قصد داریم تستای فصل اول اون یعنی تستای دایره رو موشکافی کنیم. البته از سالای قبل با دایره آشنایی‌هایی دارید. تو تستا قصد داریم مفاهیمی مثل «انواع زاویه در دایره، روابط طولی دایره، مماس مشترک و اوضاع نسبی دایره‌ها، پندشلی‌های ممای و میطی و ... رو بررسی کنیم. بپه‌ها! دایره در کل فصل شیرینی هستش و ما مطمئتم که راحت تستای این فصل رو پشت سر می‌ذارین و فُب البته این فصل در تکنور سراسری و تکنورهای آزمایشی و کلاً آزمون‌ها از اهمیت ویژه‌ای برخورداره و به همین دلیل هم تعداد تست‌های بیشتری رو به نسبت بقیه فصل‌ها براتون تدارک دیریم ... به امید موفقیتتون! این شما و این بناب دایره ...!

۱- در مربعی به ضلع ۲ واحد، دایره‌ای به مرکز یک رأس آن و شعاع  $\frac{2}{5}$  واحد، دو ضلع مربع را قطع می‌کند. فاصله نزدیک‌ترین رأس مربع تا نقطه تقاطع، کدام است؟

ریاضی داخل ۹۵

$\frac{1}{4}$  (۱)       $\frac{1}{3}$  (۲)       $\frac{\sqrt{2}}{2}$  (۳)       $\frac{\sqrt{3}}{2}$  (۴)

۲- مربع ABCD به ضلع ۴ واحد مفروض است. شعاع دایره‌گذرا بر دو رأس A و B و مماس بر ضلع CD کدام است؟

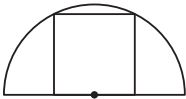
ریاضی خارج ۹۵

$2\sqrt{2}$  (۱)       $\frac{2}{5}$  (۲)       $3\sqrt{2}$  (۳)       $3$  (۴)

۳- مربع ABCD و دایره‌گذرنده بر دو رأس C و D به شعاع ۵ و مماس بر ضلع AB از مربع مفروض است. مساحت مربع چه قدر است؟

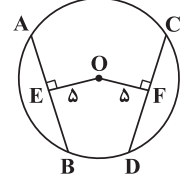
$25$  (۱)       $36$  (۲)       $64$  (۳)       $100$  (۴)

۴- در شکل مقابل، شعاع نیم‌دایره  $\frac{7}{5}$  سانتی‌متر است. مساحت مربع محاط در نیم‌دایره چند سانتی‌متر مربع است؟



$54$  (۱)       $30$  (۲)       $36$  (۳)       $45$  (۴)

۵- در شکل مقابل O مرکز دایره است و OE و OF به ترتیب بر AB و CD عموداند به طوری که  $OE = OF = 5$ . اگر  $AE = x - 1$  و  $CD = x + 2$ ، آن‌گاه طول شعاع دایره چه قدر است؟

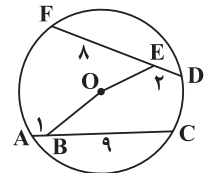


$2\sqrt{7}$  (۱)       $4\sqrt{2}$  (۲)       $\sqrt{34}$  (۳)       $6$  (۴)

۶- در دایره‌ای به مرکز O، دو وتر  $AB = 18$  و  $CD = 12$  طوری قرار دارند که مجموع فواصل O از دو وتر ۱۵ است. شعاع دایره کدام است؟

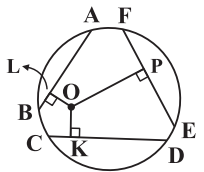
$3\sqrt{13}$  (۱)       $2\sqrt{13}$  (۲)       $3\sqrt{7}$  (۳)       $2\sqrt{7}$  (۴)

۷- در شکل مقابل O مرکز دایره است. E و B نقاطی روی وترهای FD و AC هستند. اگر OB کم‌ترین مقدار صحیح خود را داشته باشد، در این صورت طول OE کدام است؟



$4$  (۱)       $5$  (۲)       $2\sqrt{2}$  (۳)       $2\sqrt{7}$  (۴)

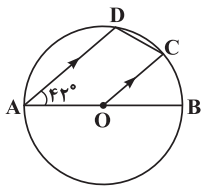
۸- در شکل مقابل O مرکز دایره،  $CD = 3x$  و  $FE = 2x - 3$  و  $AB = 12$ . اگر  $OP > OK > OL$ ، x کدام مقدار نمی‌تواند باشد؟



$5$  (۱)       $6$  (۲)       $8$  (۳)       $7$  (۴)

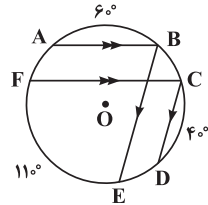
۹- در یک مستطیل به طول ۱۳ و عرض ۶ واحد، دایره‌ای به قطر طول مستطیل، ضلع روبه‌روی آن را در دو نقطه M و N قطع می‌کند. فاصله این دو نقطه چند واحد است؟

$4$  (۱)       $2\sqrt{6}$  (۲)       $5$  (۳)       $4\sqrt{2}$  (۴)



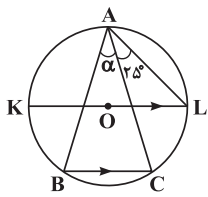
۱۰- در دایره مقابل، O مرکز دایره است و شعاع OC و وتر AD موازی اند. اگر  $\hat{A} = 42^\circ$ ، آن گاه اندازه زاویه C چه قدر است؟

- (۱)  $42^\circ$   
 (۲)  $69^\circ$   
 (۳)  $84^\circ$   
 (۴)  $96^\circ$



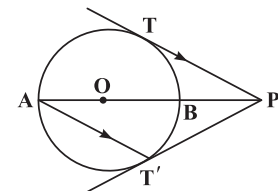
۱۱- در شکل مقابل، اگر  $AB \parallel FC$ ،  $CD \parallel BE$ ،  $\widehat{AB} = 6^\circ$ ،  $\widehat{CD} = 4^\circ$  و  $\widehat{EF} = 11^\circ$  باشد، آن گاه زاویه  $\widehat{FCD}$  چند درجه است؟

- (۱)  $55^\circ$   
 (۲)  $70^\circ$   
 (۳)  $80^\circ$   
 (۴)  $90^\circ$



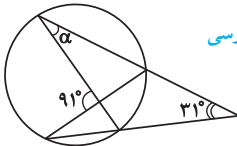
۱۲- در دایره مقابل، زاویه بین دو وتر AL و AC،  $25^\circ$  و وتر BC با قطر KL موازی است. اندازه زاویه  $\alpha$  چند درجه است؟

- (۱)  $30^\circ$   
 (۲)  $35^\circ$   
 (۳)  $40^\circ$   
 (۴)  $45^\circ$



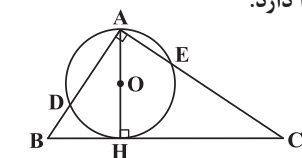
۱۳- در شکل مقابل، PT و  $PT'$  بر دایره مماس اند،  $PT \parallel AT'$  بوده و AB قطر دایره است. اندازه کمان  $TBT'$  چه قدر است؟

- (۱)  $30^\circ$   
 (۲)  $60^\circ$   
 (۳)  $90^\circ$   
 (۴)  $120^\circ$



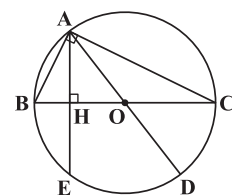
۱۴- در شکل مقابل، اندازه زاویه  $\alpha$  چه قدر است؟

- (۱)  $30^\circ$   
 (۲)  $31^\circ$   
 (۳)  $45^\circ$   
 (۴)  $60^\circ$



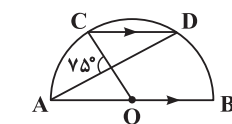
۱۵- در شکل مقابل، ارتفاع وارد بر وتر مثلث قائم الزاویه  $ABC$  ( $\hat{A} = 90^\circ$ ) نقش قطر دایره را دارد. اگر  $\widehat{AD} = 100^\circ$  باشد، اندازه زاویه C کدام است؟

- (۱)  $80^\circ$   
 (۲)  $60^\circ$   
 (۳)  $50^\circ$   
 (۴)  $40^\circ$



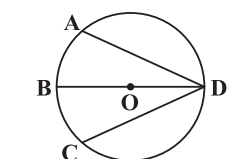
۱۶- مثلث قائم الزاویه  $ABC$  ( $\hat{A} = 90^\circ$ ) و دایره محیطی آن را در نظر بگیرید. ارتفاع وارد بر وتر این مثلث، دایره محیطی را در نقطه E قطع می کند. اگر نقطه D انتهای دیگر قطر گذرا از رأس A و  $\widehat{ED} = 80^\circ$  باشد، اندازه زاویه C کدام است؟

- (۱)  $65^\circ$   
 (۲)  $45^\circ$   
 (۳)  $25^\circ$   
 (۴)  $5^\circ$



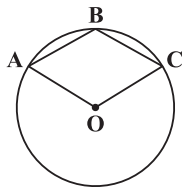
۱۷- در شکل مقابل، O مرکز نیم دایره و  $AB \parallel CD$  است. اندازه کمان CD چه قدر است؟

- (۱)  $25^\circ$   
 (۲)  $40^\circ$   
 (۳)  $75^\circ$   
 (۴)  $80^\circ$



۱۸- در دایره شکل مقابل، O مرکز دایره و قطر BD نیمساز زاویه  $ADC$  است. اگر  $AD = 3x - 7$  و  $CD = x + 1$  باشد، اندازه AD کدام است؟

- (۱) ۴  
 (۲) ۵  
 (۳) ۶  
 (۴) ۷



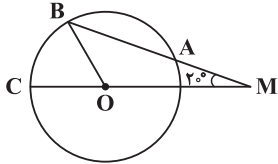
۱۹- نقطه O مرکز دایره و چهارضلعی ABCO لوزی است. اندازه کمان  $\widehat{ABC}$  چند درجه است؟

- (۱) ۶۰  
(۲) ۹۰  
(۳) ۱۲۰  
(۴) ۱۳۵

۲۰- در شکل مقابل، از نقطه M خارج دایره به شعاع R، خطی چنان رسم کرده‌ایم که دایره را در دو نقطه A و B قطع کرده است و داریم  $MA = R$  و  $\widehat{M} = 20^\circ$ . اندازه زاویه مرکزی BOC چه قدر است؟

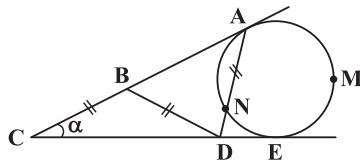
تمرین کتاب درسی

- (۱)  $30^\circ$   
(۲)  $40^\circ$   
(۳)  $45^\circ$   
(۴)  $60^\circ$



۲۱- در شکل مقابل داریم  $BC = BD = AD$  و  $\widehat{C} = \alpha$ . مقدار  $\widehat{AME} - \widehat{NE}$  چه قدر است؟

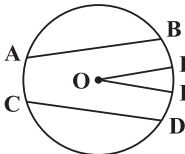
- (۱)  $2\alpha$   
(۲)  $4\alpha$   
(۳)  $6\alpha$   
(۴)  $8\alpha$



۲۲- در شکل مقابل O مرکز دایره، اندازه  $\widehat{BKD} = 80^\circ$  و اندازه  $\widehat{AC} = 60^\circ$  است. اگر شعاع‌های OK و OL به ترتیب با وترهای AB و CD موازی باشند، زاویه KOL چند درجه است؟

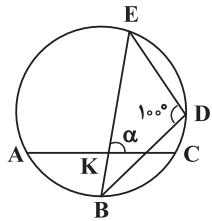
تمرین کتاب درسی

- (۱) ۲۰  
(۲) ۱۵  
(۳) ۱۰  
(۴) ۵



۲۳- در دایره مقابل، B وسط کمان کوچک AC است. اگر  $\widehat{EDB} = 100^\circ$  باشد، آن گاه  $\widehat{EKC} = \alpha$  چند درجه است؟

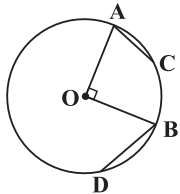
- (۱) ۵۰  
(۲) ۶۰  
(۳) ۷۰  
(۴) ۸۰



۲۴- در دایره مقابل دو شعاع OA و OB بر هم عمودند. اگر طول کمان‌های AC و BD برابر باشند، آن گاه امتداد وترهای AC و BD با هم چه زاویه‌ای می‌سازند؟

تمرین کتاب درسی

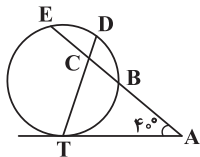
- (۱)  $30^\circ$   
(۲)  $45^\circ$   
(۳)  $60^\circ$   
(۴)  $90^\circ$



۲۵- در یک دایره دو وتر عمود بر هم، چهار کمان بر دایره پدید می‌آورند. اگر اندازه‌های دو کمان از چهار کمان مزبور  $30^\circ$  و  $80^\circ$  باشند، اندازه تفاضل دو کمان دیگر بر حسب درجه کدام است؟

تمرین کتاب درسی

- (۱) ۳۰  
(۲) ۴۰  
(۳) ۵۰  
(۴) ۶۰



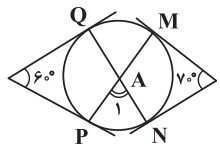
۲۶- در شکل مقابل AT بر دایره مماس است و  $\widehat{ED} = \widehat{BD}$ ، اگر  $\widehat{TAE} = 40^\circ$  باشد،  $\widehat{ECD}$  کدام است؟

- (۱)  $60^\circ$   
(۲)  $70^\circ$   
(۳)  $80^\circ$   
(۴)  $90^\circ$

تمرین کتاب درسی

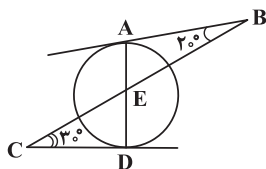
۲۷- در شکل مقابل، اندازه زاویه  $A_1$  چند درجه است؟

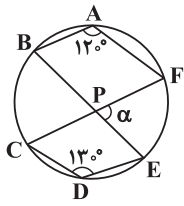
- (۱) ۶۰  
(۲) ۶۵  
(۳) ۷۰  
(۴) ۷۵



۲۸- در شکل مقابل، نیم خط‌های AB و CD بر دایره مماس هستند. اگر  $\widehat{B} = 20^\circ$  و  $\widehat{C} = 30^\circ$ ، آن گاه اندازه  $\widehat{BED}$  چه قدر است؟

- (۱)  $105^\circ$   
(۲)  $110^\circ$   
(۳)  $115^\circ$   
(۴)  $125^\circ$



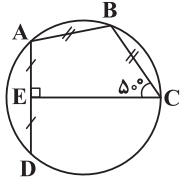


۲۹- در شکل مقابل،  $\widehat{BAF} = 120^\circ$  و  $\widehat{CDE} = 130^\circ$ ، زاویه حاده بین دو وتر  $BE$  و  $CF$  چه قدر است؟

- (۱)  $70^\circ$   
 (۲)  $75^\circ$   
 (۳)  $80^\circ$   
 (۴)  $85^\circ$

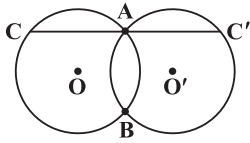
۳۰- در دایره شکل مقابل، دو وتر  $BC$  و  $AB$  برابر بوده و  $\widehat{BCE} = 50^\circ$  است. پاره خط  $CE$  بر وتر  $AD$  عمود است و آن را نصف می‌کند. اندازه زاویه  $\widehat{DAB}$  کدام است؟

- (۱)  $120^\circ$   
 (۲)  $110^\circ$   
 (۳)  $100^\circ$   
 (۴)  $130^\circ$



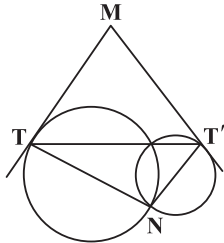
۳۱- در شکل مقابل، دو دایره مساوی متقاطع‌اند. قاطع  $CAC'$  را رسم می‌کنیم. مثلث  $CBC'$  همواره ..... است.

- (۱) متساوی‌الاضلاع  
 (۲) قائم‌الزاویه  
 (۳) متساوی‌الساقین  
 (۴) قائم‌الزاویه متساوی‌الساقین



۳۲- در شکل مقابل،  $MT$  و  $MT'$  بر دایره مماس‌اند و  $\widehat{N} = 110^\circ$ ، زاویه  $M$  چند درجه است؟

- (۱)  $55^\circ$   
 (۲)  $60^\circ$   
 (۳)  $70^\circ$   
 (۴)  $90^\circ$



۳۳- دو دایره متقاطع در نقطه  $A$  مشترک‌اند. خط گذرا بر  $A$  دو دایره مفروض را در  $B$  و  $C$  قطع می‌کند. مماس‌ها بر هر دایره در  $B$  و  $C$  در نقطه  $M$  متقاطع‌اند. در مثلث  $MBC$  با چرخش خط قاطع، کدام جزء ثابت می‌ماند؟

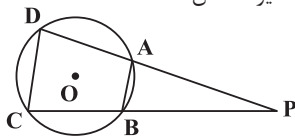
ریاضی خارج ۹۴

- (۱)  $MA$   
 (۲) محیط  
 (۳) مساحت  
 (۴) زاویه  $BMC$

۳۴- در مثلث متساوی‌الساقین  $ABC$  ( $AB = AC$ ) نقطه  $O$  در امتداد  $AC$  مرکز دایره‌ای است که در نقطه  $B$  بر ضلع  $AB$  مماس است. امتداد  $BC$  این دایره را در  $D$  قطع کرده است. مثلث  $OCD$  چگونه است؟

ریاضی داخل ۹۴

- (۱) متساوی‌الساقین  
 (۲) قائم‌الزاویه  
 (۳) قائم‌الزاویه و متساوی‌الساقین  
 (۴) غیرمشخص

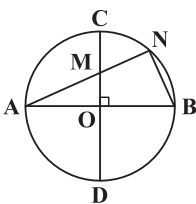


۳۵- در شکل مقابل، اگر شعاع دایره،  $R$  باشد،  $AB = R$  و  $CD = R\sqrt{2}$  باشد، اندازه زاویه  $P$  چند درجه است؟

- (۱)  $15^\circ$   
 (۲)  $20^\circ$   
 (۳)  $12/5^\circ$   
 (۴)  $25^\circ$

۳۶- در شکل مقابل، دو قطر  $AB$  و  $CD$  بر هم عمود هستند و داریم  $MN = NB$ . اندازه کمان  $BN$  کدام است؟

- (۱)  $22/5^\circ$   
 (۲)  $30^\circ$   
 (۳)  $45^\circ$   
 (۴)  $60^\circ$



۳۷- در دایره  $C$  به مرکز  $O$ ، قطر  $AB$  و  $M$  وسط کمان  $AB$  است. نقطه  $F$  روی قطر  $DM$  طوری قرار دارد که  $MF = MB$ . اگر نقطه  $H$  برخورد امتداد  $BF$  با دایره باشد، آنگاه اندازه زاویه  $HMF$  چه قدر است؟

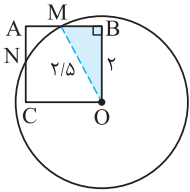
- (۱)  $15^\circ$   
 (۲)  $22/5^\circ$   
 (۳)  $30^\circ$   
 (۴)  $45^\circ$

۳۸- در یک دایره به مرکز  $O$ ، شعاع  $OA$  را به اندازه خود تا نقطه  $B$  امتداد می‌دهیم. از نقطه  $B$  بر مماس دلخواه دایره عمود  $BD$  را فرود می‌آوریم. اگر  $\widehat{ADB} = 34^\circ$  باشد، زاویه  $OAD$  چند درجه است؟

ریاضی داخل ۹۴

- (۱)  $68^\circ$   
 (۲)  $73^\circ$   
 (۳)  $102^\circ$   
 (۴)  $146^\circ$

## پاسخ‌های تشریحی



۱ ۲ پس از رسم شکل، متوجه قضیه فیثاغورس در مثلث BOM می‌شویم و چنین می‌نویسیم:

$$BM = NC = \sqrt{(2/5)^2 - 2^2} = \frac{3}{5}$$

$$AM = AN = AB - BM = 2 - \frac{3}{5} = \frac{7}{5}$$

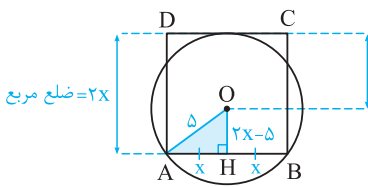
۲ ۲ از درسنامه آموختیم که قطر عمود بر هر وتر، آن وتر را نصف می‌کند. حال مانند تست قبل، این بار در مثلث

رنگی از قضیه فیثاغورس کمک می‌گیریم:

$$R^2 = (4 - R)^2 + 2^2 \Rightarrow R^2 = 16 + R^2 - 8R + 4 \Rightarrow R = \frac{20}{8} = 2.5$$

۳ ۳ دوستان گل! دقت کنید که در این شکل، مراکز مربع و دایره بر یک‌دیگر منطبق نیستند. با توجه به اندازه‌های

روی شکل و به کمک قضیه فیثاغورس چنین می‌نویسیم:



$$\Delta AOH: x^2 + (2x - 5)^2 = 5^2 \Rightarrow x^2 + 4x^2 - 20x + 25 = 25 \Rightarrow 5x^2 - 20x = 0$$

$$\Rightarrow x^2 - 4x = 0 \Rightarrow x(x - 4) = 0$$

$$\Rightarrow \begin{cases} x = 0 & \text{غ‌ق‌ق} \\ x = 4 \end{cases}$$

$$\Rightarrow x = 4 \Rightarrow S_{ABCD} = (2x)^2 = 64$$

۴ ۴ از مرکز نیم‌دایره به D و C وصل می‌کنیم و از رابطه فیثاغورس کمک می‌گیریم:

$$x^2 + \left(\frac{x}{2}\right)^2 = R^2 \Rightarrow \frac{5x^2}{4} = R^2 \Rightarrow x^2 = \frac{4}{5}R^2$$

$$\xrightarrow{R=7/5} S_{\text{مربع}} = x^2 = \frac{4 \times 7/5 \times 7/5}{5} = 4.5$$

۵ ۳ با توجه به این‌که  $OE = OF = 5$ ، یعنی فاصله مرکز دایره از دو وتر یکسان است، پس دو وتر برابرند. بنابراین:

$$\overline{AB} = \overline{CD} \Rightarrow 2x - 2 = x + 2 \Rightarrow x = 4 \Rightarrow AE = x - 1 = 3$$

$$2AE$$

$$\Delta OEA: R = \sqrt{5^2 + 3^2} = \sqrt{34}$$

حال از O به A وصل می‌کنیم. داریم:

۶ ۱ از O به A و C وصل می‌کنیم. داریم:

$$\left. \begin{aligned} \Delta OHA: OH^2 &= R^2 - 81 & (1) \\ \Delta OH'C: OH'^2 &= R^2 - 36 & (2) \end{aligned} \right\} \xrightarrow{(2)-(1)} OH'^2 - OH^2 = 45 \Rightarrow (OH' - OH)(OH' + OH) = 45$$

$$\Rightarrow \begin{cases} OH' - OH = 3 \\ OH' + OH = 15 \end{cases} \xrightarrow{\text{حل دستگاه}} \begin{cases} OH' = 9 \\ OH = 6 \end{cases} \Rightarrow \Delta OH'C: R^2 = OH'^2 + 36$$

$$\Rightarrow R^2 = 81 + 36 = 117 \Rightarrow R = 3\sqrt{13}$$

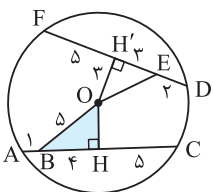
۷ ۳ با توجه به این‌که  $FD = AC = 10$ ، پس مرکز (O) از دو وتر به یک فاصله است و OH و OH' وترها را نصف می‌کنند. پس:

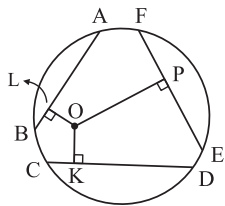
$$AH = \frac{AC}{2} = 5 \Rightarrow BH = 4$$

از طرفی در  $\Delta OHB$ ،  $\hat{H} = 90^\circ$ ، پس  $OB > BH$ ، یعنی  $OB > 4$ . در نتیجه کم‌ترین مقدار صحیح OB، 5 است. پس

در  $\Delta OHB$ ،  $OH = 3$ ، که برابر OH' است (زیرا  $AC = FD = 10$ ) و در نهایت در  $\Delta OH'E$ ،  $EH' = 3$  و  $OH' = 3$ .

پس  $OE = 3\sqrt{2}$ .



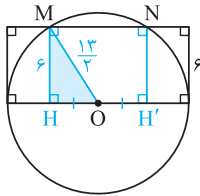


۸ ۴ با توجه به این که از دو وتر نابرابر، وتری بزرگتر است که به مرکز دایره نزدیکتر باشد و بالعکس، می توان نوشت:

$$OP > OK > OL \Rightarrow FE < AB < CD$$

$$\Rightarrow 2x - 3 < 12 < 3x \Rightarrow \begin{cases} 2x - 3 < 12 \\ 3x > 12 \end{cases} \Rightarrow x < 7.5 \text{ و } x > 4$$

یعنی  $4 < x < 7.5$ . بنابراین  $x$  نمی تواند ۸ باشد.



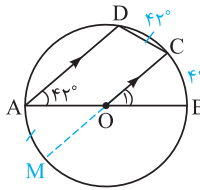
۹ ۳ از مرکز دایره به  $M$  یا  $N$  وصل می کنیم. داریم:

$$\Delta MOH : HO = \sqrt{\left(\frac{13}{2}\right)^2 - 6^2} = \sqrt{\frac{25}{4}} = \frac{5}{2}$$

$$MN = HH' = 2HO = 5$$

۱۰ ۲ شعاع  $OC$  را از سمت  $O$  امتداد می دهیم تا دایره را در  $M$  قطع کند. با توجه به توازی  $AD$  و  $MC$  و

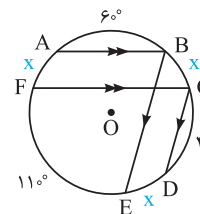
این که که کمان های محصور بین دو وتر موازی در یک دایره برابرند، داریم:



$$\widehat{A} = 42^\circ, AD \parallel OC, \text{ مورب } AB \Rightarrow \widehat{O}_1 = 42^\circ = \widehat{BC} \xrightarrow{DCB=84^\circ} \widehat{CD} = 42^\circ$$

$$\xrightarrow{AD \parallel CM} \widehat{AM} = \widehat{CD} = 42^\circ \quad (1)$$

$$\widehat{AD} = 180^\circ - 84^\circ = 96^\circ \xrightarrow{(1)} \widehat{C} = \frac{\widehat{AD} + \widehat{AM}}{2} = \frac{96^\circ + 42^\circ}{2} = 69^\circ$$

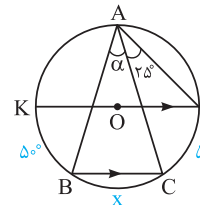


۱۱ ۳ کمان های محصور بین دو وتر موازی در یک دایره برابرند، پس می توان نوشت:

$$\widehat{AF} = \widehat{BC}, \widehat{BC} = \widehat{ED} = x$$

$$\frac{\widehat{AF}}{x} + 60^\circ + \frac{\widehat{BC}}{x} + 40^\circ + \frac{\widehat{ED}}{x} + 110^\circ = 360^\circ \Rightarrow 3x = 150^\circ \Rightarrow x = 50^\circ$$

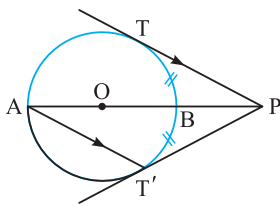
$$\widehat{FCD} = \frac{\widehat{EF} + \widehat{ED}}{2} = \frac{110^\circ + 50^\circ}{2} = 80^\circ$$



۱۲ ۳ چون قطر  $KL$  با وتر  $BC$  موازی است در نتیجه کمان های محصور بین آن ها مساوی اند. یعنی  $\widehat{BK} = \widehat{CL}$

و چون زاویه  $\widehat{CAL}$  محاطی روبه رو به کمان  $CL$  است، بنابراین  $\widehat{CL} = 2\widehat{CAL} = 50^\circ$ . از طرفی می دانیم قطر  $KL$  است، پس  $\widehat{KB} + \widehat{BC} + \widehat{CL} = 180^\circ$  و چون  $\widehat{KB} + \widehat{CL} = 100^\circ$ ، لذا  $\widehat{BC} = 80^\circ$  و در نهایت چون  $\widehat{BAC}$  محاطی روبه رو به  $\widehat{BC}$  است. بنابراین:

$$\widehat{BAC} = \alpha = \frac{\widehat{BC}}{2} = 40^\circ$$



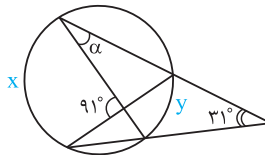
۱۳ ۴ با توجه به این که  $PT$  و  $PT'$  بر دایره مماس اند، پس  $AP$  کمان  $\widehat{TBT'}$  را نصف می کند. از طرفی کمان های محصور

بین یک مماس و یک وتر موازی آن، با هم برابرند. بنابراین:

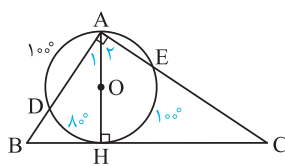
$$\left. \begin{aligned} \widehat{TB} &= \widehat{T'B} \\ \widehat{AT} &= \widehat{TBT'} = \widehat{TB} + \widehat{T'B} \end{aligned} \right\} \Rightarrow \left. \begin{aligned} \widehat{AT} &= 2\widehat{TB} \\ \widehat{AT} + \widehat{TB} &= 180^\circ \end{aligned} \right\} \Rightarrow 3\widehat{TB} = 180^\circ \Rightarrow \widehat{TB} = 60^\circ \Rightarrow \widehat{TBT'} = 2 \times 60^\circ = 120^\circ$$

۱۴ ۱ از تعریف زاویه های غیراصلی یعنی زاویه حاصل از برخورد دو وتر و زاویه حاصل از برخورد امتداد دو وتر در

دایره کمک می گیریم و چنین می نویسیم:



$$\left. \begin{aligned} \frac{x+y}{2} &= 91^\circ \Rightarrow x+y = 182^\circ \\ \frac{x-y}{2} &= 31^\circ \Rightarrow x-y = 62^\circ \end{aligned} \right\} \xrightarrow{(-)} \Rightarrow 2y = 120^\circ \Rightarrow y = 60^\circ \Rightarrow \alpha = \frac{y}{2} = \frac{60^\circ}{2} = 30^\circ$$



۱۵ ۴

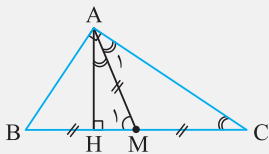
$$\left. \begin{aligned} \widehat{AD} &= 100^\circ \\ \widehat{ADH} &= 180^\circ \end{aligned} \right\} \Rightarrow \widehat{DH} = 80^\circ \Rightarrow \widehat{A}_1 = 40^\circ \Rightarrow \widehat{A}_2 = 90^\circ - 40^\circ = 50^\circ \Rightarrow \widehat{EH} = 100^\circ$$

$$\widehat{C} = \frac{\widehat{ADH} - \widehat{EH}}{2} = \frac{180^\circ - 100^\circ}{2} = 40^\circ$$

البته به طرز ساده تری هم می توان به جواب رسید، زیرا در مثلث قائم الزاویه  $ABC$  داریم:  $\widehat{C} = \widehat{A}_1 = 40^\circ$ .

۳ ۱۶

نیم نگاه

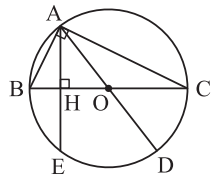


در مثلث قائم الزاویه  $ABC$  ( $\hat{A} = 90^\circ$ ) زاویه بین ارتفاع و میانه وارد بر وتر برابر است با:  $H\hat{A}M = |\hat{B} - \hat{C}|$

اثبات

$$\triangle AHM : H\hat{A}M = 180^\circ - (90^\circ + \hat{M}_1) = 180^\circ - (90^\circ + \hat{A}_1 + \hat{C})$$

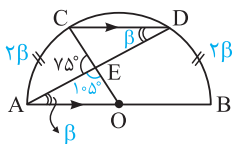
$$\hat{A}_1 = \hat{C} \Rightarrow 90^\circ - \hat{C} = \hat{B} + \hat{C} - \hat{C} = \hat{B} - \hat{C}$$



$$H\hat{A}D = \frac{\widehat{ED}}{2} = 40^\circ \xrightarrow{\text{طبق کادر نیم نگاه}} \hat{B} - \hat{C} \Rightarrow 2\hat{B} = 130^\circ \Rightarrow \hat{B} = 65^\circ \Rightarrow \hat{C} = 25^\circ$$

از طرفی:  $\hat{B} + \hat{C} = 90^\circ$

۴ ۱۷



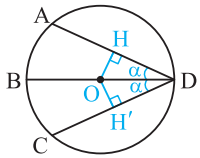
$$\hat{D} = \beta \Rightarrow \widehat{AC} = 2\beta \Rightarrow \hat{O} = 2\beta \Rightarrow \triangle AOE : \hat{A} + \hat{O} = 180^\circ - 105^\circ$$

از طرفی:  $CD \parallel AB$ ,  $AD$  مورب  $\Rightarrow \hat{A} = \hat{D} = \beta$

$$\Rightarrow \beta + 2\beta = 75^\circ \Rightarrow \beta = 25^\circ$$

می دانیم کمان های محصور بین دو وتر موازی در دایره با یکدیگر برابرند. پس می توان نوشت:

$$\widehat{AC} = \widehat{BD} \Rightarrow \widehat{CD} = 180^\circ - (2 \times \frac{\widehat{AC}}{2}) = 180^\circ - (2 \times 25^\circ) = 80^\circ$$



**روش اول:** با توجه به این که هر نقطه روی نیمساز، از دو ضلع زاویه به یک فاصله است، از O مرکز دایره بر AD و CD عمود می کنیم و چنین می نویسیم:

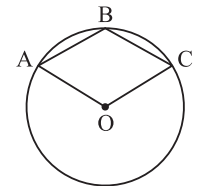
$$OH = OH' \Rightarrow HD = H'D \xrightarrow{\times 2} AD = CD \Rightarrow 3x - 7 = x + 1 \Rightarrow 2x = 8$$

$$\Rightarrow x = 4 \Rightarrow AD = 3x - 7 = 5$$

**روش دوم:** اگر از A و C به B وصل شود، می توان چنین نوشت:

$$\left. \begin{aligned} \hat{A} = \hat{C} = 90^\circ \\ \hat{D}_1 = \hat{D}_2 = \alpha \end{aligned} \right\} \Rightarrow \triangle ABD \cong \triangle BCD \text{ (وتر و یک زاویه حاده)}$$

$$\Rightarrow AD = CD \Rightarrow \dots \text{ (مانند روش اول)}$$



تمام فرزندان متوازی الاضلاع (مستطیل، مربع و لوزی) مانند خودش دارای زوایای مقابل مساوی هستند.

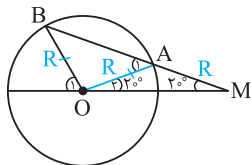
پس می توان چنین نوشت:

$$\triangle ABCO \text{ لوزی} \Rightarrow \widehat{B} = \hat{O} \text{ (مرکزی)} \Rightarrow \frac{\widehat{AC}}{2} = \widehat{ABC} \quad (1)$$

$$\widehat{AC} + \widehat{ABC} = 360^\circ \xrightarrow{(1)} 2\widehat{ABC} + \widehat{ABC} = 360^\circ \Rightarrow 3\widehat{ABC} = 360^\circ \Rightarrow \widehat{ABC} = 120^\circ$$

از O به A وصل کنیم!

۴ ۲۰



$$OA = AM = R \Rightarrow \hat{O}_2 = \hat{M} = 20^\circ \Rightarrow \triangle OAM \text{ خارجی} \hat{A}_1 = 2\hat{M} = 40^\circ$$

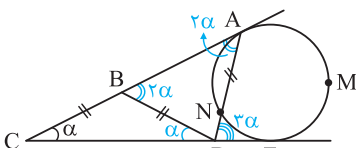
$$OB = OA = R \Rightarrow \hat{B} = \hat{A}_1 = 40^\circ \Rightarrow \triangle OBM \text{ خارجی} \hat{O}_1 = \hat{B} + \hat{M} = 40^\circ + 20^\circ = 60^\circ$$

در حالت کلی تو شکل قبل اگر  $AM = R$ ، اون وقت همیشه داریم:  $\hat{O}_1 = 3\hat{M}$ .

نتیجه

راهنمایی: از تعریف زاویه قوسی کمک بگیرینو بعرض سراغ اندازه زاویه غیراصلی C بپزید!

۳ ۲۱

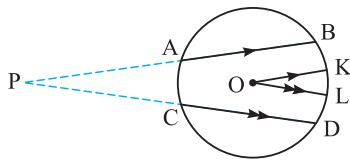


$$\triangle BCD \text{ خارجی} \hat{A}BD = \hat{C} + \hat{B}DC = 2\alpha$$

$$\triangle ABD \text{ متساوی الساقین} : \hat{B}AD = \hat{A}BD = 2\alpha$$

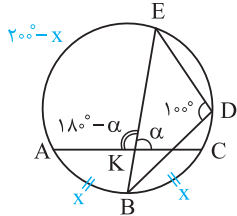
$$\triangle ACD \text{ خارجی} \hat{A}DE = \hat{C} + \hat{D}AC = \alpha + 2\alpha = 3\alpha$$

$$\hat{A}DE = 3\alpha = \frac{\widehat{AME} - \widehat{NE}}{2} \Rightarrow \widehat{AME} - \widehat{NE} = 6\alpha$$



وتر AB رو از سمت A و وتر CD رو از سمت C امتداد بدهیم تا همو تو یه نقطه قطع کنن! چون  $OL \parallel CD$  و  $OK \parallel AB$ ، پس زاویه  $\widehat{KOL}$  با زاویه بین امتدادهای دو وتر AB و CD برابر است. اگر نقطه تلاقی امتدادهای این دو وتر را P بنامیم، داریم:

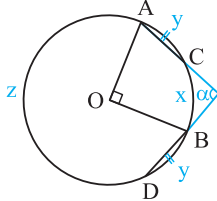
$$\widehat{P} = \frac{\widehat{BKD} - \widehat{AC}}{2} = \frac{80^\circ - 60^\circ}{2} = 10^\circ$$



با توجه به شکل داریم:  $\widehat{EDB} = 100^\circ \Rightarrow \widehat{BAE} = 26^\circ$

$$\widehat{BA} = \widehat{BC} = x \quad (1) \Rightarrow \widehat{AE} = 26^\circ - x \quad (2)$$

$$180^\circ - \alpha = \frac{\widehat{AE} + \widehat{BC}}{2} \Rightarrow 180^\circ - \alpha = \frac{(1), (2) \quad 26^\circ - x + x}{2} = 13^\circ \Rightarrow \alpha = 5^\circ$$

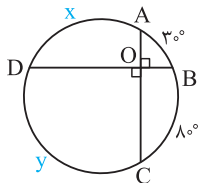


ابتدا وترهای AC و BD را امتداد می‌دهیم تا یکدیگر را در نقطه‌ای خارج دایره قطع کنند. حال می‌توان به کمک تعریف زاویه اصلی مرکزی O و زاویه غیراصلی  $\alpha$  چنین نوشت:

$$\left. \begin{aligned} \widehat{O} = x + y = 90^\circ \\ z + y = 270^\circ \end{aligned} \right\} \xrightarrow{(-)} z - x = 180^\circ$$

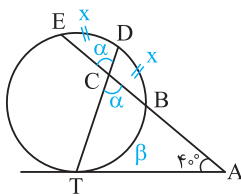
$$\left. \begin{aligned} z - x = 180^\circ \\ z + y = 270^\circ \end{aligned} \right\} \Rightarrow \alpha = \frac{180^\circ}{2} = 90^\circ$$

از طرفی:  $\alpha = \frac{z - x}{2}$



دو کمان  $30^\circ$  و  $80^\circ$  باید مجاور باشند و نمی‌توانند روبه‌روی هم باشند (پهراين).

$$\left. \begin{aligned} \widehat{AOD} = \frac{x + 80^\circ}{2} = 90^\circ \Rightarrow x + 80^\circ = 180^\circ \Rightarrow x = 100^\circ \\ \widehat{AOB} = \frac{y + 30^\circ}{2} = 90^\circ \Rightarrow y + 30^\circ = 180^\circ \Rightarrow y = 150^\circ \end{aligned} \right\} \Rightarrow y - x = 150^\circ - 100^\circ = 50^\circ$$



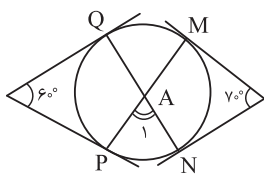
به اندازه زاویه غیراصلی C و زاویه ظلی ATD توجه کنین!

$$\alpha = \frac{\widehat{BT} + \widehat{ED}}{2} = \frac{x + \beta}{2} \quad (1)$$

$$\widehat{ATD} = \frac{\widehat{DBT}}{2} = \frac{x + \beta}{2} \stackrel{(1)}{=} \alpha$$

$$\Delta CAT: \alpha + \alpha + 40^\circ = 180^\circ \Rightarrow \alpha = 70^\circ$$

به روابط زوایای غیر اصلی  $60^\circ$  و  $70^\circ$  دقت کنین!

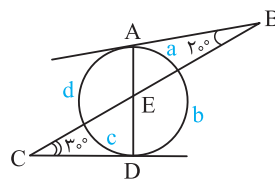


$$\left. \begin{aligned} 60^\circ = \frac{\widehat{QMP} - \widehat{QP}}{2} \Rightarrow \widehat{QMP} - \widehat{QP} = 120^\circ \\ \widehat{QMP} + \widehat{QP} = 360^\circ \end{aligned} \right\} \xrightarrow{\text{حل}} 2\widehat{QP} = 240^\circ \Rightarrow \widehat{QP} = 120^\circ$$

$$\left. \begin{aligned} 70^\circ = \frac{\widehat{MQN} - \widehat{MN}}{2} \Rightarrow \widehat{MQN} - \widehat{MN} = 140^\circ \\ \widehat{MQN} + \widehat{MN} = 360^\circ \end{aligned} \right\} \xrightarrow{\text{حل}} 2\widehat{MN} = 220^\circ \Rightarrow \widehat{MN} = 110^\circ$$

$$\Rightarrow \widehat{QAP} = \frac{\widehat{QP} + \widehat{MN}}{2} = \frac{120^\circ + 110^\circ}{2} = 115^\circ \Rightarrow \widehat{A}_1 = 180^\circ - 115^\circ = 65^\circ$$

پس از نام‌گذاری کمان‌های روی شکل چنین می‌نویسیم:

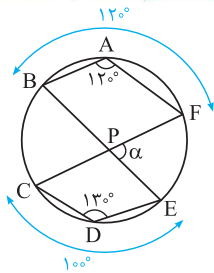


$$\left. \begin{aligned} \widehat{B} = \frac{\widehat{d} - \widehat{a}}{2} = 20^\circ \Rightarrow \widehat{d} - \widehat{a} = 40^\circ \\ \widehat{C} = \frac{\widehat{b} - \widehat{c}}{2} = 30^\circ \Rightarrow \widehat{b} - \widehat{c} = 60^\circ \end{aligned} \right\} \xrightarrow{+} \widehat{b} + \widehat{d} - \widehat{a} - \widehat{c} = 100^\circ$$

$$\text{از طرفی: } \widehat{b} + \widehat{d} + \widehat{a} + \widehat{c} = 360^\circ$$

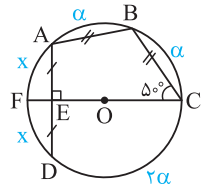
$$\xrightarrow{+} 2(\widehat{b} + \widehat{d}) = 460^\circ \Rightarrow \widehat{b} + \widehat{d} = 230^\circ \Rightarrow \widehat{BED} = \frac{\widehat{b} + \widehat{d}}{2} = \frac{230^\circ}{2} = 115^\circ$$





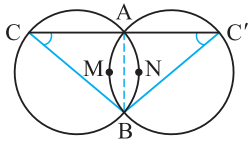
۱ ۲۹ اندازه کمان روبه‌رو به  $\widehat{BAF}$ ،  $240^\circ$  است. پس  $120^\circ = 360^\circ - 240^\circ = \widehat{BAF}$  (۱). از طرفی اندازه کمان روبه‌رو به  $\widehat{CDE}$ ،  $260^\circ$  است. پس  $100^\circ = 360^\circ - 260^\circ = \widehat{CDE}$  (۲). از سوی دیگر زاویه بین دو وتر دایره است. بنابراین: (۳)  $\alpha = \frac{\widehat{BC} + \widehat{EF}}{2}$  در نهایت می‌توان نوشت:

$$\widehat{BC} + \widehat{EF} \stackrel{(۱),(۲)}{=} 360^\circ - (120^\circ + 100^\circ) = 140^\circ \Rightarrow \alpha \stackrel{(۳)}{=} \frac{140^\circ}{2} = 70^\circ$$

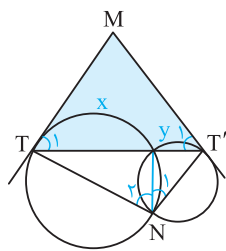


۱ ۳۰ با توجه به این‌که  $AD, CE$  را نصف می‌کند و بر آن عمود هم است، پس قطر دایره محسوب می‌شود و امتداد آن، کمان  $AD$  را نیز نصف می‌کند. یعنی  $\widehat{AF} = \widehat{DF} = x$  و چون  $\widehat{AF} + \widehat{AC} = 180^\circ$  (CF قطر)، پس  $\widehat{CD} + \widehat{DF} = 180^\circ$ . یعنی  $\widehat{CD} = \widehat{AC}$ . حال از آن‌جا که  $\widehat{BCF}$  محاطی است، بنابراین:

$$\left. \begin{aligned} 2\alpha + x &= 180^\circ \\ \widehat{BF} = \alpha + x &= 2\widehat{C} = 100^\circ \end{aligned} \right\} \Rightarrow \alpha = 80^\circ \Rightarrow \widehat{DAB} = \frac{3\alpha}{2} = \frac{3 \times 80^\circ}{2} = 120^\circ$$



۳ ۳۱ زاویه‌های  $C$  و  $C'$  به ترتیب روبه‌روی کمان‌های  $AMB$  و  $ANB$  هستند. از آن‌جا که این دو کمان روبه‌رو به یک وتر  $(AB)$  هستند و شعاع‌های دو دایره نیز برابرند، پس کمان‌ها با هم برابرند که در نتیجه  $\widehat{C} = \widehat{C}'$  یعنی مثلث  $CBC'$  همواره متساوی‌الساقین است.



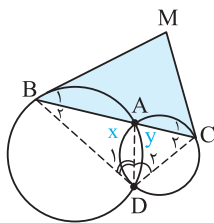
۳ ۳۲ راهنمایی: نقاط تقاطع دو دایره رو به هم وصل کنید.  $\widehat{N}_1$  و  $\widehat{N}_2$  محاطی‌اندر. هواستون باشه که باید از رابطه زاویه ظلی برای  $\widehat{T}_1$  و  $\widehat{T}'_1$  هم استفاده کنید.

$$(۱) \quad 110^\circ \stackrel{\text{طبق فرض}}{=} \widehat{N}_1 + \widehat{N}_2 = \frac{x+y}{2} \Rightarrow \widehat{N}_1 = \frac{y}{2}, \widehat{N}_2 = \frac{x}{2} \text{ (محاطی)}$$

$$\widehat{T}_1 = \frac{x}{2}, \widehat{T}'_1 = \frac{y}{2} \Rightarrow \widehat{T}_1 + \widehat{T}'_1 = \frac{x+y}{2} \stackrel{(۱)}{=} 110^\circ \text{ (ظلی): از طرفی}$$

$$\Rightarrow \Delta MTT': \widehat{M} = 180^\circ - 110^\circ = 70^\circ$$

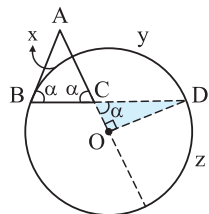
۴ ۳۳ راهنمایی: از  $B$  و  $C$  به  $D$  و از  $D$  به  $A$  وصل کنید. چون می‌فوایم برای حل تست از زوایای مدیر به وجود آمده کمک بگیریم.



$$\left. \begin{aligned} \widehat{B}_1 = \frac{\widehat{AB}}{2} = \widehat{D}_1 \text{ (محاطی)} \\ \widehat{C}_1 = \frac{\widehat{AC}}{2} = \widehat{D}_2 \text{ (محاطی)} \end{aligned} \right\} \xrightarrow{(+)} \widehat{B}_1 + \widehat{C}_1 = \widehat{D}_1 + \widehat{D}_2 \Rightarrow \widehat{M} = 180^\circ - \widehat{D} = \widehat{B}_2 + \widehat{C}_2 = \frac{x+y}{2}$$

با چرخش قاطع، رئوس  $B$  و  $C$  جابه‌جا می‌شوند؛ ولی در هر صورت کمان  $AD$  را رؤیت می‌کنند و با توجه به ثابت بودن مقادیر کمان‌های  $x$  و  $y$ ، پس در اندازه  $\widehat{D} = \widehat{C}_2 + \widehat{B}_2$  تغییری ایجاد نمی‌شود. بنابراین  $\widehat{BMC}$  ثابت می‌ماند.

۲ ۳۴ با تجربه حل سؤالات قبل حتماً متوجه شده‌اید که زوایای ظلی و غیر اصلی (زاویه حاصل از برخورد دو وتر یا امتداد دو وتر) بسیار مهم هستند و به محض دیدن آن‌ها باید اندازه‌هایشان را محاسبه کنیم.



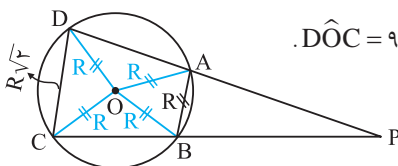
$$\left. \begin{aligned} \widehat{B} = \alpha = \frac{x+y}{2} \text{ (ظلی)} \\ \widehat{C} = \alpha = \frac{x+z}{2} \end{aligned} \right\} \Rightarrow y = z \Rightarrow y = z = 90^\circ \Rightarrow \Delta OCD \text{ قائم‌الزاویه است.}$$

$180^\circ = \text{نصف محیط دایره} = y + z$ : از طرفی

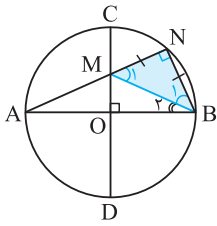
۱ ۳۵ از  $O$  به  $A, D, C$  و  $B$  وصل می‌کنیم. مثلث  $AOB$  متساوی‌الاضلاع است. پس  $\widehat{AOB} = 60^\circ$ . یعنی  $\widehat{AB} = 60^\circ$ . از طرفی مثلث  $DOC$  قائم‌الزاویه است (زیرا  $(R^2 + R^2 = (R\sqrt{2})^2$ ، پس  $\widehat{DOC} = 90^\circ = \widehat{CD}$ ).

در نتیجه:

$$\widehat{P} = \frac{\widehat{CD} - \widehat{AB}}{2} = \frac{90^\circ - 60^\circ}{2} = 15^\circ$$



از M به B وصل کنیم و نوع مثلث MNB رو مشخص کنیم. اندازه زاویه‌های این مثلث به شما کمک می‌کنه.

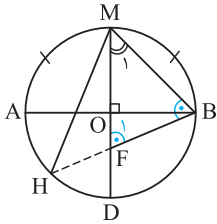


$$\left. \begin{aligned} \widehat{N} = 90^\circ \text{ (محاظی روی قطر دایره)} \\ MN = NB \text{ (فرض)} \end{aligned} \right\} \Rightarrow \widehat{M}_1 = \widehat{B}_1 = 45^\circ \quad (1)$$

$AM = MB \Rightarrow \widehat{A} = \widehat{B}$  از طرفی M روی عمودمنصف AB (یعنی CD) واقع است.

$$\Delta AMB \text{ خارجی } \widehat{M}_1 = \widehat{A} + \widehat{B}_2 = 2\widehat{A} \stackrel{(1)}{=} 45^\circ \Rightarrow \widehat{A} = 22.5^\circ \Rightarrow \widehat{NB} = 2 \times 22.5^\circ = 45^\circ$$

نقطه M وسط کمان AB و DM قطر دایره است. پس  $\widehat{AM} = \widehat{MB} = \widehat{BD} = \widehat{AD} = 90^\circ$  اما.



$$\widehat{M}_1 = \frac{\widehat{BD}}{2} = \frac{90^\circ}{2} = 45^\circ$$

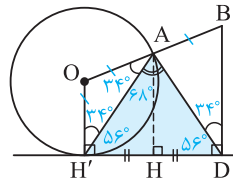
$$\Delta MFB: \widehat{F}_1 = \widehat{B} = \frac{180^\circ - \widehat{M}_1}{2} = \frac{180^\circ - 45^\circ}{2} = \frac{135^\circ}{2} = 67.5^\circ$$

$$\Delta MHF \text{ خارجی } \widehat{F}_1 = \widehat{HMF} + \frac{\widehat{H}}{2} \Rightarrow 67.5^\circ = \widehat{HMF} + 45^\circ \Rightarrow \widehat{HMF} = 22.5^\circ$$

راهنمایی: از A عمود AH و عمود O بر OH' رو بکشین و از A هم به H' وصل کنیم.

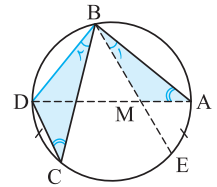
طبق قضیه تالس، هر نسبتی که A روی OB ایجاد کرده باشد، H نیز روی H'D ایجاد خواهد کرد. بنابراین

$$HD = H'H \text{ و از آن جا که در } \Delta ADH' \text{ ارتفاع، نقش میانه را هم دارد، پی به متساوی الساقین بودن آن می‌بریم. (1)}$$



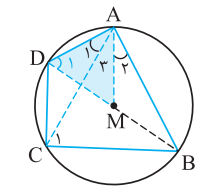
$$\left. \begin{aligned} \widehat{ADB} = 34^\circ \Rightarrow \widehat{ADH} \stackrel{(1)}{=} \widehat{AH'H} = 56^\circ \Rightarrow \widehat{H'AD} = 180^\circ - (2 \times 56^\circ) = 68^\circ \\ OH' = OA = R \Rightarrow \widehat{OH'A} = \widehat{OAH'} = 34^\circ \end{aligned} \right\} \Rightarrow \widehat{OAD} = 34^\circ + 68^\circ = 102^\circ$$

راهنمایی: سعی کنیم دو مثلث متشابه پیدا کنیم که تو نسبت تشابه‌شون، از پاره‌های فرض و کلمه سؤال استفاده شه. (یعنی از AB، BC و AM استفاده شه.)



ابتدا از B به D وصل می‌کنیم تا مثلث BCD پدید آید. حال چنین می‌نویسیم:

$$\left. \begin{aligned} \widehat{A} = \widehat{C} = \frac{\widehat{BD}}{2} \text{ (محاظی)} \\ \widehat{AE} = \widehat{CD} \Rightarrow \widehat{B}_1 = \widehat{B}_2 = \frac{\widehat{AE}}{2} \end{aligned} \right\} \Rightarrow \Delta AMB \stackrel{\Delta}{\sim} \Delta CDB \Rightarrow \frac{AB}{BC} = \frac{AM}{CD} \Rightarrow \frac{6}{8} = \frac{AM}{3} \Rightarrow AM = \frac{18}{8} = 2.25$$

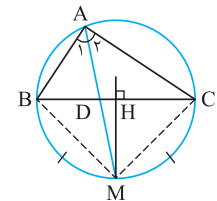


مانند سؤال قبل سعی می‌کنیم دو مثلث متشابه پیدا کنیم که در نسبت تشابه آن‌ها از پاره‌های فرض سؤال (یعنی BC و AD) استفاده شود.

$$\left. \begin{aligned} \widehat{A}_1 = \widehat{A}_2 \xrightarrow{+\widehat{A}_3} \widehat{DAM} = \widehat{BAC} \\ \widehat{C}_1 = \widehat{D}_1 = \frac{\widehat{AB}}{2} \end{aligned} \right\} \Rightarrow \Delta AMD \stackrel{\Delta}{\sim} \Delta ABC \Rightarrow \frac{AD}{AC} = \frac{DM}{BC} \Rightarrow AD \cdot BC = AC \cdot DM$$

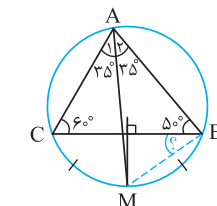
نقطه تلاقی نیمساز هر زاویه و عمودمنصف ضلع مقابل به اون، روی دایره محیطی مثلثه.

اگر دایره محیطی مثلث ABC را رسم کنیم، امتداد نیمساز AD دایره محیطی را در M قطع می‌کند و داریم:



$$AD \text{ نیمساز} \Rightarrow \widehat{A}_1 = \widehat{A}_2 \Rightarrow \widehat{BM} = \widehat{CM} \Rightarrow BM = CM \Rightarrow M \text{ روی عمودمنصف BC نیز واقع است.}$$

تکرار می‌کنیم که عمودمنصف یک ضلع مثلث و نیمساز زاویه مقابل به آن ضلع، یکدیگر را روی دایره محیطی



مثلث قطع می‌کنند. داریم:

$$\widehat{A} = 180^\circ - (60^\circ + 50^\circ) = 70^\circ \xrightarrow{\text{نیمساز AM}} \widehat{A}_1 = 35^\circ \Rightarrow \widehat{CM} = 2 \times 35^\circ = 70^\circ$$

$$MBC \text{ (محاظی): از طرفی } \widehat{MBC} = \frac{\widehat{CM}}{2} = \frac{70^\circ}{2} = 35^\circ$$